

1 Escribe con letra las siguientes cantidades:

234 678 703 _____

56 230 123 _____

560 000 034 200 _____

2 Escribe los valores absoluto y relativo de los dígitos indicados.

En la cantidad 683 150


- a) el valor absoluto de 3 es _____
- b) el valor relativo de 8 es _____
- c) el valor relativo de 0 es _____
- d) el valor absoluto de 1 es _____
- e) el valor relativo de 6 es _____

3 La cantidad anterior es un número:

- a) concreto
- b) abstracto

4 En la cantidad 345 279 456 352 546 indica los números que corresponden a la clase de:

- a) las unidades _____
- b) los billones _____
- c) los millares de millón _____
- d) los millares _____
- e) los millones _____



- 5 Escribe con número la siguiente cantidad:

Ciento tres billones, noventa tres mil doscientos cuatro millones, setenta y siete.

- 6 Escribe el nombre de los números ordinales que se te piden.

74° _____

95° _____

20° _____

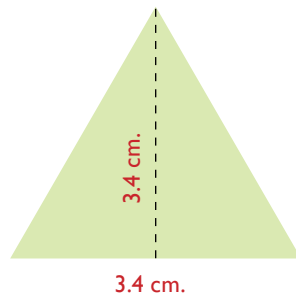
- 7 Escribe con números romanos las siguientes cantidades.

432 _____ 201 _____

8 943 _____ 150 _____

- 8 Calcula el perímetro y el área de los siguientes polígonos regulares.

Un triángulo equilátero que mide 3.4 cm. por lado y de altura 3.4 cm.



Perímetro = _____

Área = _____

Un cuadrado que mide 6.7 cm. de lado.

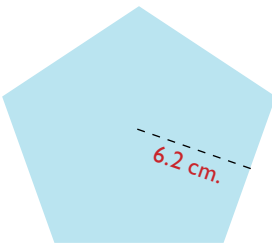


6.7 cm.

Perímetro = _____

Área = _____

Un pentágono que mide 3.4 cm de lado y 6.2 cm. de apotema.

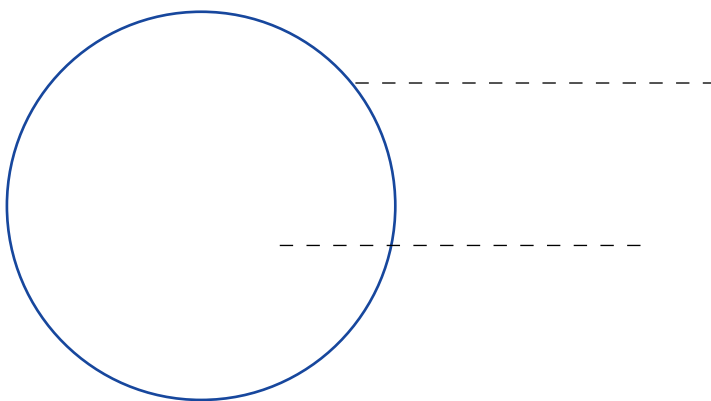


3.4 cm.

Perímetro = _____

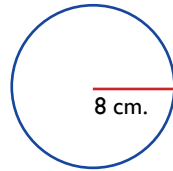
Área = _____

9 De la siguiente figura identifica el círculo y la circunferencia.



10 Calcula la circunferencia y el área de los siguientes círculos.

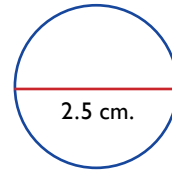
Un círculo cuyo radio mide 8 cm.



$C =$ _____

$A =$ _____

Un círculo cuyo diámetro mide 2.5 cm.



$C =$ _____

$A =$ _____

11 Escribe las características principales de los siguientes cuerpos geométricos.

Cuerpos geométricos	Características
Polígonos regulares	
Prismas	
Pirámides	
Cuerpos redondos	

12 Por 250 g. de jamón se pagan \$7.25. ¿Cuánto se pagará por el kg.?

Resultado _____

13 ¿Cuál es el precio de un terreno que mide 235.80 metros cuadrados, si el metro cuadrado cuesta \$ 235.50?

Resultado _____